



# *«Занимательная математика»*



**Сколько горошин может войти  
в один стакан?**



**Чебурашка, пока путешествовал в ящичке с апельсинами, съедал по апельсину на завтрак и на обед и два апельсина на ужин. Сколько апельсинов он съел за неделю путешествия?**

**28**



# СОСТАВЬ СЛОВО

*Нужно взять по одному слогу из данных слов и составить математический термин*

**1.ЧИЖИК,СЛОВО**

число

**2.СУМКА,МАШИНА**

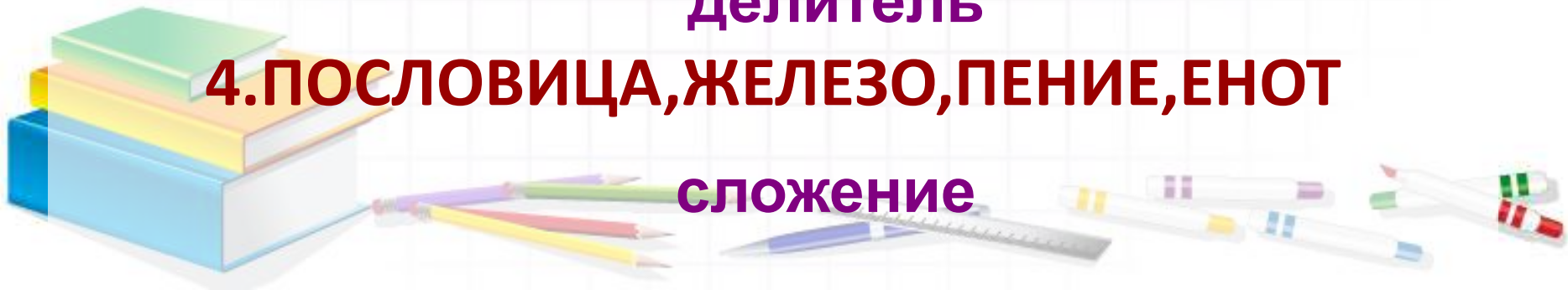
сумма

**3.ДЕЛО,ЛИМОН,ЖИТЕЛЬ**

делитель

**4.ПОСЛОВИЦА,ЖЕЛЕЗО,ПЕНИЕ,ЕНОТ**

сложение

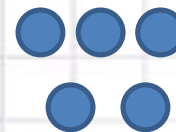

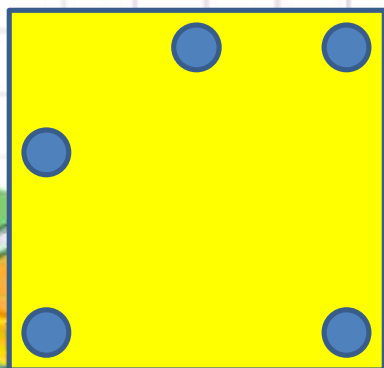


# Задачи – смекалки

Если из наименьшего двузначного числа вычесть наибольшее однозначное число, то получится....

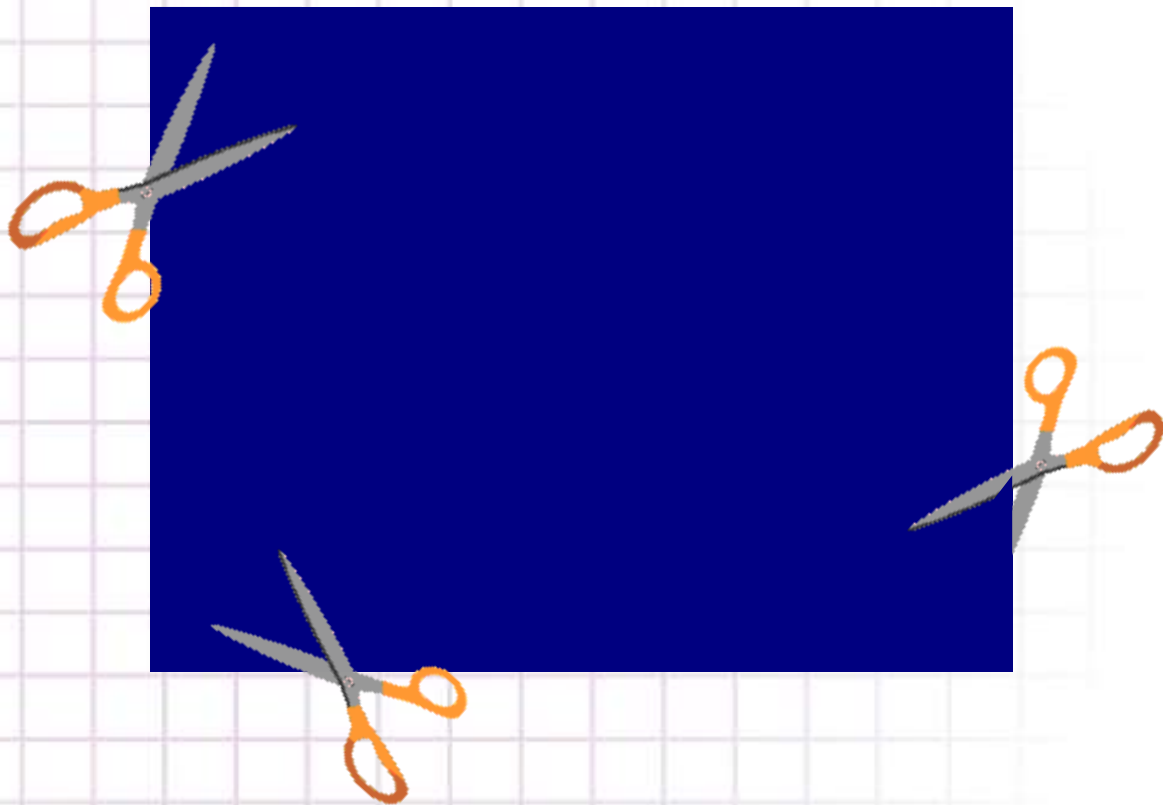
$$10 - 9 = 1$$

Как в комнате расставить 5 стульев, чтобы у каждой из четырёх стен стояло по 2 стула.





*Крышка стола имеет 4 угла. Три из них отпилили. Сколько углов стало?*



# Разгадай ребусы.

По 2 л 7 я

40 а

100 лб

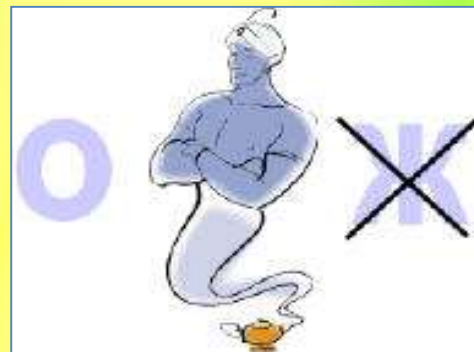




число



счёт




1



2



5



8





З

Н

А

К




МИНУС



задача



точка



скворец



а стоянка

*Отгадай ребус*

*и ты узнаешь о правилах личной гигиены.*

**ПРЕЖДЕ ЧЕМ ВСЯ**


**7Я 05 СЯДЕТ ЗА СТОЛ,**

**ПРЕЗРИТЕЛЬНО**


**ВЫЗ КЛЕЁНКУ.**



Уберите 4 палочки,  
чтобы осталось  
5 квадратов.



Переложите 3 палочки  
так, чтобы получилось  
3 равных квадрата





## «Отгадай героя из мультфильма»

- Сравните две таблицы, найдите логическую связь между ними, прочитайте предложение и скажите, какому очень популярному герою мультфильмов он принадлежит.

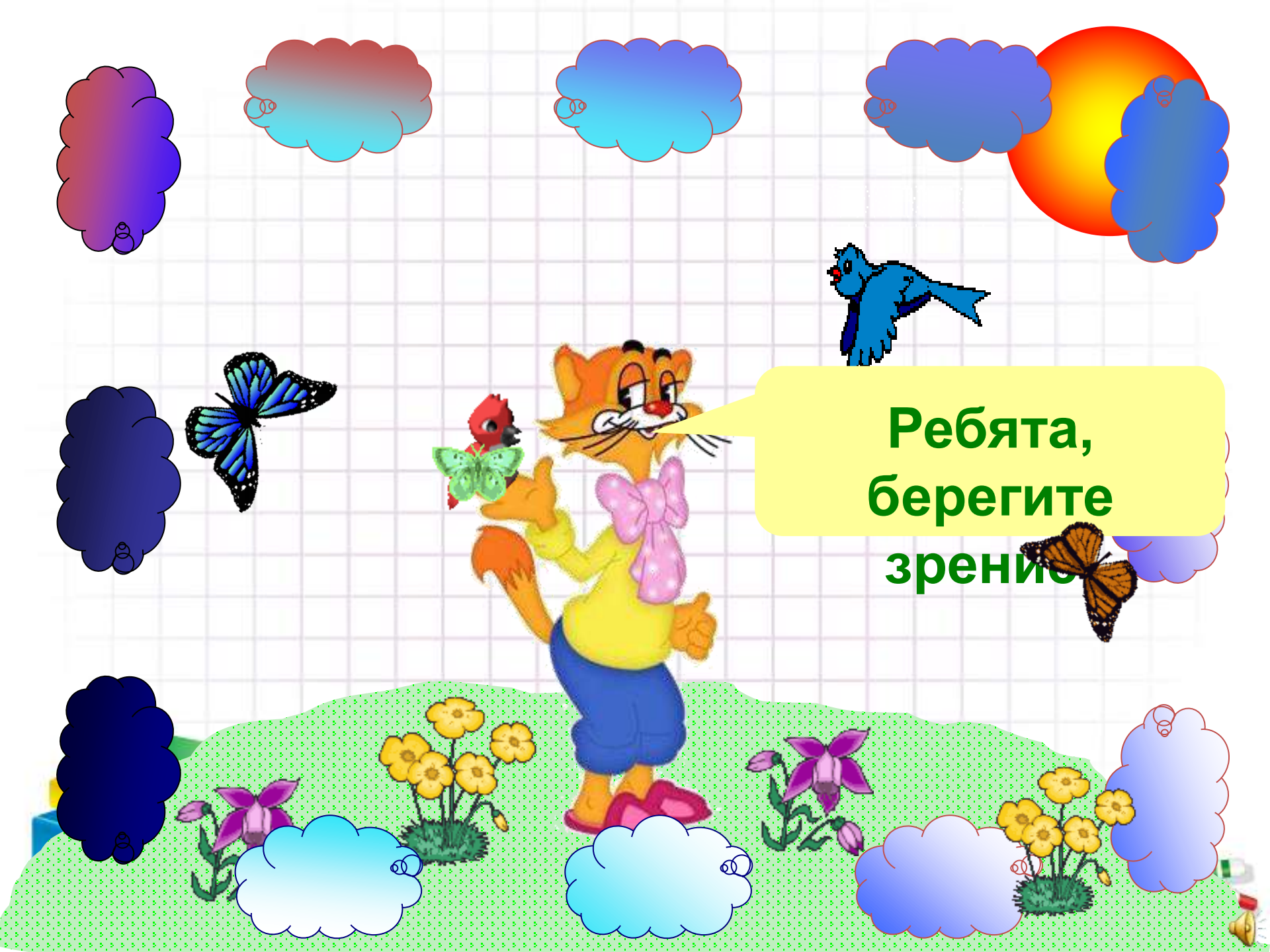
17	4	21	11	5
12	16	1	23	8
20	9	25	13	18
2	22	6	24	3
14	7	19	10	15

Т	Я	У	А	Т
Й	И	Р	Н	Д
Р	А	!	Т	Ь
Е	Ж	А	О	Б
Е	,	Д	В	Ж

- Ответ: «Ребята, Давайте жить дружно!»

Кот Леопольд.





Ребята,  
берегите  
зрение



Лена



Даша



Таня

Жили-были три девочки: Таня, Лена и Даша.

Таня выше Лены, Лена выше Даши.

Кого из них как зовут?



Стоит в поле дуб, а на дубе 8 веток. На каждой ветке по 2 крупные сладкие сливы. Сколько слив ты можешь собрать?

По небу летали воробей, ворона, стрекоза, ласточка и шмель. Сколько птиц летало?

Сколько концов у трёх с половиной палок?





Посадил дед вдоль одной тропинки три берёзы. Бабка между каждыми соседними берёзами посадила липы. А внучка между каждыми соседними деревьями посадила по кусту роз. Сколько кустиков роз посадила внучка?



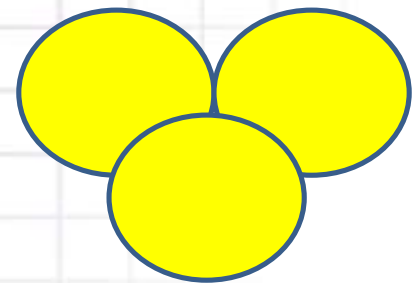
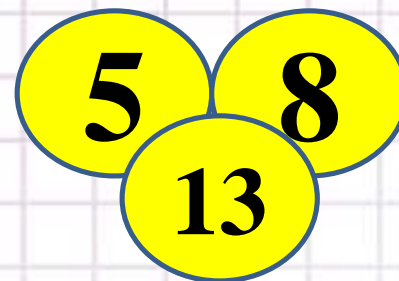
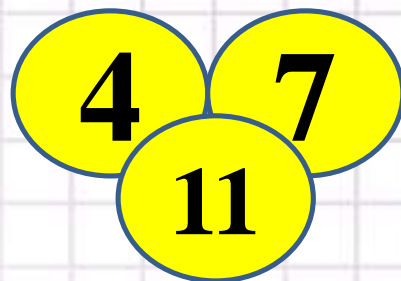
# Поиск закономерностей

Проследи, как получается каждое следующее число и назови в каждый ряд ещё по 1 числу

1) 1, 2, 4, 7, 11, **.16**

2) 4, 8, 12, **.16**

Найдите связь между числами заполните свободные кружки





# Занимательный квадрат

В данном квадрате расставить числа **2, 2, 3, 3, 3** так, чтобы при сложении чисел по строчкам, по столбикам и с угла на угол всегда получалось число **6**.

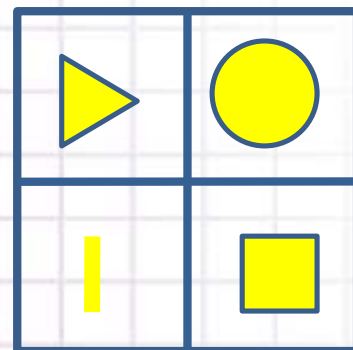
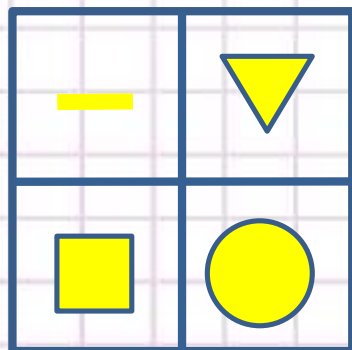
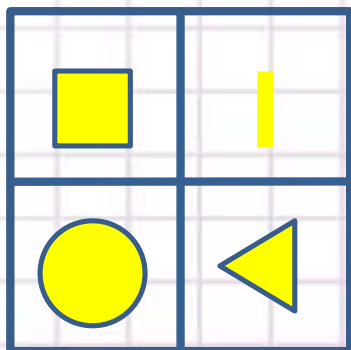
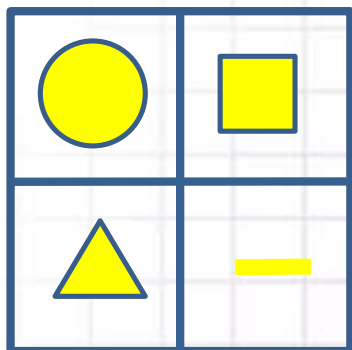
	<b>1</b>	
<b>1</b>	<b>2</b>	
		<b>1</b>



<b>3</b>	<b>1</b>	<b>2</b>
<b>1</b>	<b>2</b>	<b>3</b>
<b>2</b>	<b>3</b>	<b>1</b>



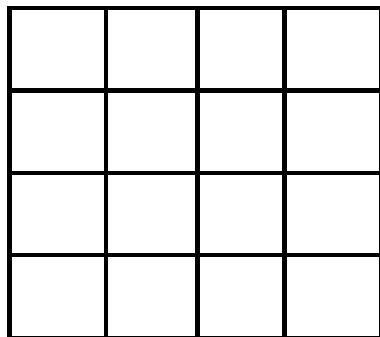
# Заполните фигурами пустой квадрат



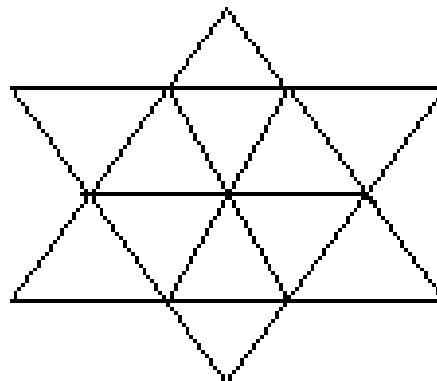
**Примечание:**

проследите как изменяется расположение фигур в первых трёх квадратах.

- *Сколько квадратов, треугольников изображено на рисунке:*



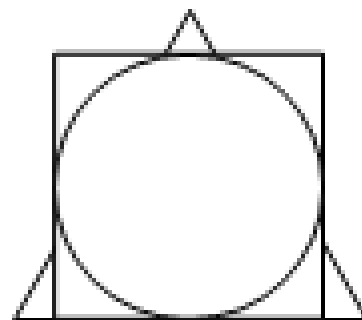
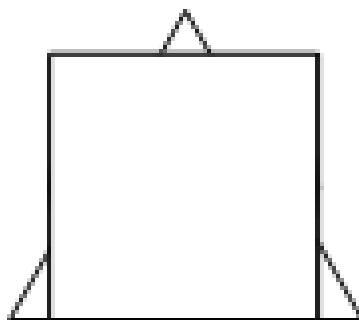
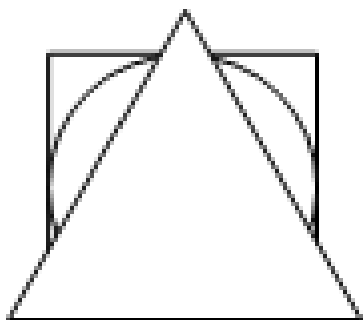
*Ответ: 30.*



*Ответ: 20.*

У Винни-Пуха, Пятачка и Кролика есть три одинаковых квадрата, три одинаковых треугольника и три одинаковых круга. Винни-Пух положил на пол треугольник, на него – квадрат, а сверху – круг. Пятачок положил сначала квадрат, на него положил круг, сверху – треугольник. Кролик положил треугольник, на него круг, а сверху квадрат.

**У кого что получилось?**



*Запишите число 100 пятью  
тройками*

$$3 \ 3 \ 3 \ 3 \ 3 = 100$$

$$33 \times 3 + 3 : 3 = 100$$





Все за одного, **один** за всех.

Не имей **сто** рублей ,а имей **сто** друзей.

**Семь** раз примерь, **один** раз отрежь.

За **двумя** зайцами погонишься, ни **одного** не поймаешь.



*Молодцы!*

